

L18 利用圖形凹性和反曲點作圖

5.2 The definite integral of a continuous function (連續函數定積分)

Upper sum and Lower sum (上和與下和)

If  $f$  and  $g$  are concave down on  $I$ , then  $f+g$  is concave down on  $I$ .

一開始從圖形研究，是動機。圖形看到的現象被定義成 concave。

Q:concave up 它的定義是什麼？A:一階微分遞增

Q:用定義證還定理證？A:他給的是一個專有名詞，而不是一個性質。

pf:

$\therefore f'$  and  $g'$  are decreases on  $I$ .  $\therefore (f+g)'=f'+g'$  are decreases on  $I$ .

Therefore  $f+g$  is concave down on  $I$ .

eg.1 Sketch the graph of the function.

$$f(x)=3x^{5/3}-5x.$$

怎麼畫圖？需要的點只是局部極大極小，一定不可缺，但有這些點，不夠精準，在把圖形的筆畫畫法放進去，開口朝上朝下的銜接點(point of inflection)。

事實上需要的點只有局部極大小和反曲點，局部極大極小從 critical point  $f'(x)=0$  or  $f''(x)$ 找，反曲點從  $f''(x)=0$  or  $f''(x)$ 不存在。

pf:

$$f'(x)=5x^{2/3}-5=0 \Rightarrow x^{2/3}=1 \Rightarrow \sqrt[3]{x^2}=1 \Rightarrow x=\pm 1$$

$$f''(x)=(10/3)x^{-1/3}=\frac{10}{3\sqrt[3]{x}} \Rightarrow f''(0) \text{ doesn't exist.}$$

Q:0 在不在定義域？A:在

Q:要畫的點只要考慮？A:實數只要看±1、0(要算出 y 值)

Q:這個函數定義在哪裡？A:所有點都有定義  $\mathbb{R}$

Q:一(二)階微分研究什麼？A:一階遞增遞減、二階上凹下凹

Q:這三點來自哪裡？A:一階微分或二階微分等於 0 或不存在。

Q:從哪裡畫到哪裡？A:從負無限大到證無大，根據定義域。

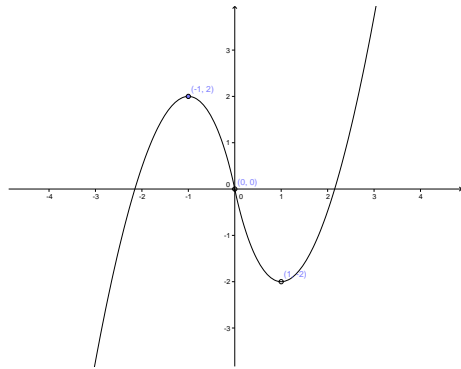
x	$x < -1$	-1	$-1 < x < 0$	0	$0 < x < 1$	1	$x > 1$
$f(x)$	+	0	-	-	-	0	+
$f'(x)$	-	-	-	不存在	+	+	+
$f(x)$	增下凹	2	減下凹	0	減上凹	-2	增上凹

$\lim(x \rightarrow -\infty)f(x)=-\infty$  and  $\lim(x \rightarrow \infty)f(x)=\infty$  可微畫出來是圓滑 smooth

L18 利用圖形凹性和反曲點作圖

5.2 The definite integral of a continuous function (連續函數定積分)

Upper sum and Lower sum (上和與下和)



eg.2 Sketch the graph of the function  $f(x)=x+\cos x$  on  $[0, 2\pi]$

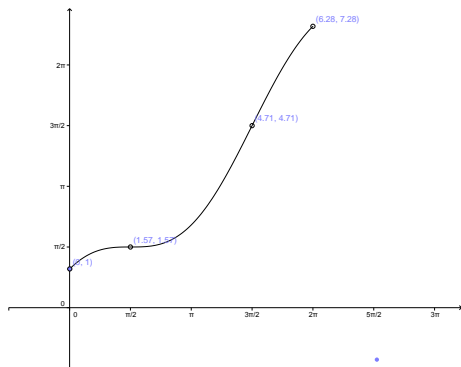
pf:

$$f'(x)=1-\sin x = 0 \Rightarrow x = \pi/2$$

$$f''(x) = -\cos x = 0 \Rightarrow x = \pi/2, 3\pi/2$$

x	$0 < x < \pi/2$	$\pi/2$	$\pi/2 < x < 3\pi/2$	$3\pi/2$	$3\pi/2 < x < 2\pi$
$f'(x)$	+	0	+	+	+
$f''(x)$	-	0	+	0	-
$f(x)$	增下凹	$\pi/2$	增上凹	$\pi/2$	增下凹

$$f(0)=1 \text{ and } f(2\pi)=2\pi+1$$



Ex:P194(7.40.44.46) 、 P208(4.14.21)

補:Let  $f:(a,b) \rightarrow \mathbb{R}$  be twice diff.

If  $f'' > 0$  on  $(a,b)$ , then the graph of the function on  $y=f(x)$  lies above any of its tangent lines.

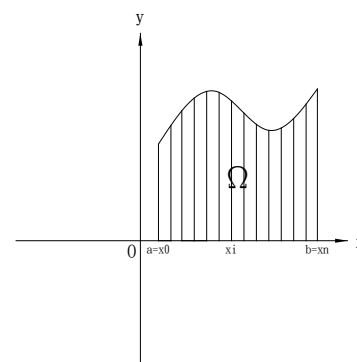
L18 利用圖形凹性和反曲點作圖

5.2 The definite integral of a continuous function (連續函數定積分)

Upper sum and Lower sum (上和與下和)

Chapter5 Integration

§ 5.2 The definite integral of a continuous of function.



Question:How to compute area?

Answer:想解決此問題，必須會算定積分。

什麼是定積分呢？下面我們詳細的解釋。

從物理或生活，生活裡頭討論面積是常有的事情，假設這是一畝地和一個池塘，現在要把這塊地賣掉，要知道這塊地是多少，生活裡頭很多事情是不規則的。問題是隨便給你一個圖形，面積多少？

積分一講完面積可算，微分一講完圖形可畫？微積分一講完，高微度的數學就出來了。物理都是在三維與四維。微積分 2 重頭戲，微積分 1 是基礎。

By the way 在大學裡頭課程裡頭，你都要專注，不是要抓出一個結果，而是怎麼樣算怎麼樣做，有過程有步驟。

Let  $f:[a,b] \rightarrow \mathbb{R}$  be a function.

爲了討論的方便起見，先假設  $f \geq 0$  on  $[a,b]$ . 畫出一二象限的圖形

Let the region between the graph of the function  $y=f(x)$  and the x-axis be  $\Omega$

What's the area( $\Omega$ ) ?

你可以看出來，圖形本身會亂彎，不一定連續不一定可微，它的不規則取決於這個函數圖形的變化，這個面積沒辦法算，原因是它不是一個規則形(規則形是長方形)。我們希望這個問題可以被解決，這個答案要是系統的方式，是用於所有的函數，後來人家經過思考，真正使不規則的原因是函數，使得沒辦法一次算出來，我們可以用估計的方式。怎麼估呢？能不能把這個區間做細分，細分的方式還是不規則，能不能讓細分的方式有規則一點，我們需要系統的方法。我們需要切割，希望割出來的圖形是長方形，割出來的圖形比原來更像長方形，原因是不規則的部分變少。這個割法是有系統的方式，取決於你要割幾塊。你要描述區間，只要描述端點。在數學上的說法是，給分點做細分。

Q:誰的細分？A:函數的定義域的區間。

Q:細分講的是小區間還分點？分點

Q:把它分成  $n$  個小區間，需要幾個分點？A: $n+1$

L18 利用圖形凹性和反曲點作圖

5.2 The definite integral of a continuous function (連續函數定積分)

Upper sum and Lower sum (上和與下和)

Q:第一個小區間是? A:[a,x1]...[xi-1,b]

Def:

① By a partition  $P_n$  of  $[a,b]$

We mean a set of finite points in  $[a,b]$  such that  $P_n = \{a = x_0 < x_1 < \dots < x_n = b\}$

② Let  $\Delta x_i = x_i - x_{i-1}$  = the length of  $i^{\text{th}}$  subinterval  $[x_{i-1}, x_i]$ ,  $\forall i = 1, 2, \dots, n$ .

eg. Find a  $P_5$  for  $[0,1]$  and find its  $\Delta x_i$

pf: Let  $P_5 = \{0 < 1/5 < 1/3 < 1/2 < 2/3 < 1\}$

Then  $\Delta x_1 = 1/5$ ,  $\Delta x_2 = 2/15$ ,  $\Delta x_3 = 1/6 \dots$

Def: Let  $M_i = \sup_{x \in [x_{i-1}, x_i]} f(x)$  and  $m_i = \inf_{x \in [x_{i-1}, x_i]} f(x)$ ,  $\forall i = 1, 2, \dots, n$ .

Then  $M_i \Delta x_i$  = 第  $i$  的小區間的外接長方形的面積， $m_i \Delta x_i$  = 第  $i$  的小區間的內接長方形的面積。

Def: The number  $U_f(P_n) = \sum_{i=1}^n M_i \Delta x_i = (M_1 \Delta x_1 + M_2 \Delta x_2 + \dots + M_n \Delta x_n)$

Is called the  $P_n$ -upper sum for  $f$ .

And the number  $L_f(P_n) = \sum_{i=1}^n m_i \Delta x_i = (m_1 \Delta x_1 + m_2 \Delta x_2 + \dots + m_n \Delta x_n)$

Is called the  $P_n$ -lower sum for  $f$ .

Q:一般來講函數先固定，誰可動？

A:我們用細分來做細分， $P_n$  可動。 $U_f(P_n)$  考慮到函數  $f$  的  $n$  項細分

L18 利用圖形凹性和反曲點作圖

5.2 The definite integral of a continuous function (連續函數定積分)

Upper sum and Lower sum (上和與下和)

e.g. The function  $f(x)=5-x^2$  on  $[-1,3]$ .

The partition  $P=\{-1,3/2,2,3\}$  is a partition of  $[-1,3]$

Q:爲什麼是一個 partition? A:它是一個有限點所成的集合，包含-1 根 3。

Find  $L_f(P)$  and  $U_f(P)$ .

pf:

$$M_1=f(0)=5, M_2=f(3/2)=(11/4), M_3=f(2)=1$$

$$U_f(P)=5 \cdot (5/2) + (11/4) \cdot (1/2) + 1 \cdot 1 = 119/8$$

$$m_1=f(3/2)=(11/4), m_2=f(2)=1, m_3=f(3)=-4$$

$$L_f(P)=(11/4) \cdot (5/2) + 1 \cdot (1/2) + -4 \cdot 1 = 27/8$$

Note:  $L_f(P) \leq \text{Area}(\Omega) \leq U_f(P), \forall P$ .